
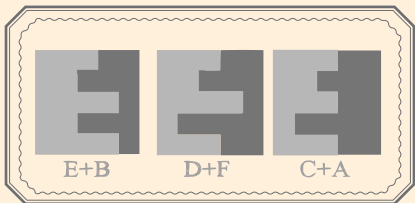


1 - CONSTRUEIX QUADRATS


Fes encaixar les figures de dues en dues de tal manera que, un cop encaixades, formin un quadrat.





2 – DOS NÚMEROS


Amb sis d'aquestes xifres es poden formar dos números consecutius de tres xifres. Saps quins números són aquests? Saps quins sobren?




Els números són: el 239 i el 240
Sobren el 6 i el 5

3 - FORMANT UN CUB


Uneix dues d'aquestes figures per formar un cub. Quines has unit?



A



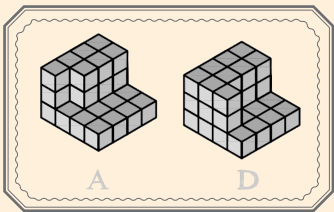
B



C



D



4 - CIUTATS DEL MÓN

Quina d'aquestes ciutats no segueix la mateixa lògica que les altres?

MADRID

ROMA

BOSTON

OSLO

BARCELONA

ESTOCOLM

VENÈCIA

BOSTON

és l'única que no és d'Europa.

5 - UNINT FIGURES

Quina figura del grup A, en unir-la amb una del grup B, dóna com a resultat una figura del grup C?

A



B



C



